

算数 3年へのステップ

組 番
なまえ かいとう

7 □にあてはまる数を書きましょう。 各5点(10)

① 2cm5mm = mm

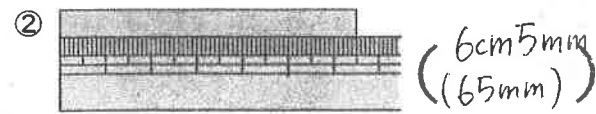
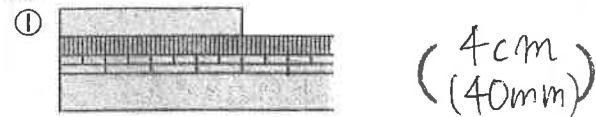
② 1m = cm

8 長いほうに○を書きましょう。 各5点(10)

① (○) ()

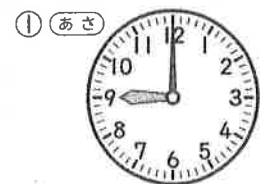
② () (○)

9 つぎの長さはどれだけですか。 各5点(15)

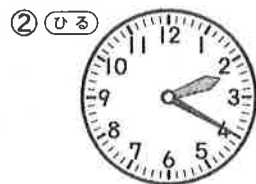


③ 1mのものさし3つぶん……(3m)

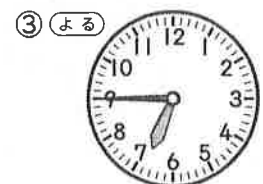
10 時計の時こくを、午前か午後をつけて書きましょう。 各5点(15)



(午前9時)

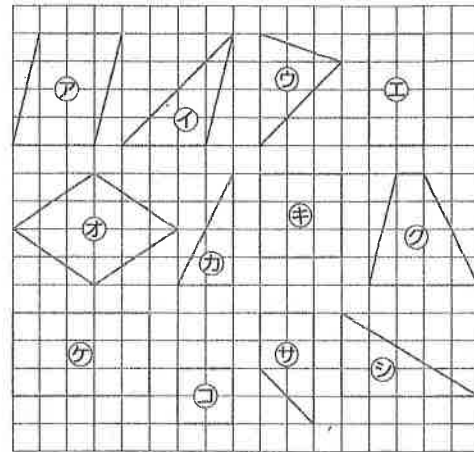


(午後2時20分)



(午後6時45分)

11 下の図から長方形、正方形、直角三角形を見つけて、アからシで答えましょう。 各5点(30)



① 長方形……(エ)と(イ)

② 正方形……(キ)と(コ)

③ 直角三角形……(カ)と(シ)

12 くだもの数をグラフにあらわしました。 各5点(20)

くだもの数

	○			
○	○		○	
○	○		○	
○	○	○	○	
○	○	○	○	○
いちご	バナナ	みかん	りんご	メロン

① つぎのくだもの数は何こですか。

▶ いちご (4こ)

▶ みかん (2こ)

② 数がいちばん多いくだものは何ですか。

(バナナ)

③ りんごは、メロンより何こ多いですか。

(3こ)

おわったら、答えを見なおしましょう。

算数 3年へのステップ

組 番
なまえ かいとう

1 □にあてはまる数を書きましょう。 ①は完全正答 各5点(15)

① 82は、10を こと、1を こあわせた数。

② 10を43こあつめた数は 。

③ 5700は、100を こあつめた数。

2 たし算をしましょう。 各5点(20)

①
$$\begin{array}{r} 52 \\ + 17 \\ \hline 69 \end{array}$$

②
$$\begin{array}{r} 39 \\ + 48 \\ \hline 87 \end{array}$$

③
$$\begin{array}{r} 75 \\ + 65 \\ \hline 140 \end{array}$$

④
$$\begin{array}{r} 47 \\ + 54 \\ \hline 101 \end{array}$$

3 ひき算をしましょう。 各5点(20)

①
$$\begin{array}{r} 85 \\ - 23 \\ \hline 62 \end{array}$$

②
$$\begin{array}{r} 91 \\ - 37 \\ \hline 54 \end{array}$$

③
$$\begin{array}{r} 142 \\ - 65 \\ \hline 77 \end{array}$$

④
$$\begin{array}{r} 103 \\ - 79 \\ \hline 24 \end{array}$$

4 かけ算をしましょう。 各5点(20)

① $5 \times 3 = 15$

② $7 \times 9 = 63$

③ $2 \times 8 = 16$

④ $6 \times 4 = 24$

5 □にあてはまる数を書きましょう。 各5点(15)

① 3のだんでは、かける数が1ふえると、答えは ふえます。

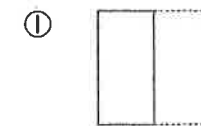
② $4 \times 2 = \text{ } \times 4$

③ $6 \times 7 = 7 \times \text{ }$

6 色をぬったところの大きさは、それぞれもとの大きさの何分の一ですか。 各5点(10)



もとの大きさ



($\frac{1}{2}$)



($\frac{1}{4}$)



二年生のふくしゅん



1もん5点

一年生ならったかん字だも。おぼえているかな。

かいとう

- ① 大きな船ふねにのる。
- ② 半分はんぶんに切る。
- ③ 鳥とりの鳴き声ななきこゑ。
- ④ 雨が強つよまる。
- ⑤ 学校がっこうのある方角ほうかく。

- ⑥ ふしぎおもに思う。
- ⑦ 黄色きいろい花。
- ⑧ 画用紙がようしに絵えをかく。
- ⑨ すきな教科きょうか。
- ⑩ 夏なつのたいよう。

にかん字を書きましよう

- ⑪ 弟おとうととあそぶ。
- ⑫ 昼ひる休みの時間やすみのじかん。
- ⑬ 店の前みせのまえをとおる通る。
- ⑭ 空そらが晴はれるれる。
- ⑮ 汽き車しゃにのる。

- ⑯ 思いきり走はしるる。
- ⑰ 広い草原そうげん。
- ⑱ 東京とうきょうへ行く。
- ⑲ 夜よるが明あけるける。
- ⑳ そうじ当番とうばん。



一年生ならったかん字

おぼえて

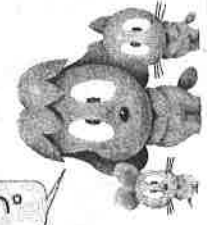
かいとう

二年生ならったかん字をかきましよう

- ① 姉あねのぼうしを頭あたまにのせる。
- ② 来週しゅうは晴はれるでしょう。
- ③ じゆん番ばんに話はなす。
- ④ 首くびかざりをつけて赤あかく。
- ⑤ 母ははの後うしろを走はしる。
- ⑥ 家いえで日記にっきをかく。
- ⑦ 野原の はらで妹いもうととあそぶ。
- ⑧ 夜よるに星ほしを数かぞえる。
- ⑨ 火曜よう日の昼ひるにカレーを食たべた。
- ⑩ 丸まるい形かたちのりんごを半はんぶんぶんに切る。
- ⑪ 地ち図ずによると、池いけの南みなみだ。

- ① 楽がくきに合あわせて歌うたう。
- ② 作さく文ぶんに親おやのこゝを書かく。
- ③ 遠とほくまで音ねが聞きこえる。
- ④ 新あたらしい教室きょうしつ。
- ⑤ 線せんろぞいに黄き色いろい花はながさく。
- ⑥ ちがう道みちを通とおつて帰かえる。
- ⑦ 船ふねで知しっている人ひとに会う。
- ⑧ 画用紙がようしに自おの分の顔かおをかく。
- ⑨ 声こゑに出い出して読よむ。
- ⑩ 風かぜの強つよい場ばしょ。

おわったら答えを見直しよう。



$$\begin{array}{r} ① \quad 26 \\ + 43 \\ \hline 69 \end{array}$$

$$\begin{array}{r} ⑥ \quad 55 \\ + 84 \\ \hline 139 \end{array}$$

$$\begin{array}{r} ② \quad 35 \\ + 20 \\ \hline 55 \end{array}$$

$$\begin{array}{r} ⑦ \quad 76 \\ + 32 \\ \hline 108 \end{array}$$

$$\begin{array}{r} ③ \quad 47 \\ + 39 \\ \hline 86 \end{array}$$

$$\begin{array}{r} ⑧ \quad 42 \\ + 99 \\ \hline 141 \end{array}$$

$$\begin{array}{r} ④ \quad 66 \\ + 3 \\ \hline 69 \end{array}$$

$$\begin{array}{r} ⑨ \quad 314 \\ + 63 \\ \hline 377 \end{array}$$

$$\begin{array}{r} ⑤ \quad 78 \\ + 2 \\ \hline 80 \end{array}$$

$$\begin{array}{r} ⑩ \quad 7 \\ + 483 \\ \hline 490 \end{array}$$

かいて7

$$\begin{array}{r} ⑪ \quad 47 \\ - 15 \\ \hline 32 \end{array}$$

$$\begin{array}{r} ⑯ \quad 90 \\ - 15 \\ \hline 75 \end{array}$$

$$\begin{array}{r} ⑫ \quad 54 \\ - 33 \\ \hline 21 \end{array}$$

$$\begin{array}{r} ⑰ \quad 158 \\ - 49 \\ \hline 109 \end{array}$$

$$\begin{array}{r} ⑬ \quad 78 \\ - 8 \\ \hline 70 \end{array}$$

$$\begin{array}{r} ⑱ \quad 101 \\ - 72 \\ \hline 29 \end{array}$$

$$\begin{array}{r} ⑭ \quad 35 \\ - 20 \\ \hline 15 \end{array}$$

$$\begin{array}{r} ⑲ \quad 544 \\ - 23 \\ \hline 521 \end{array}$$

$$\begin{array}{r} ⑮ \quad 84 \\ - 76 \\ \hline 8 \end{array}$$

$$\begin{array}{r} ⑳ \quad 817 \\ - 8 \\ \hline 809 \end{array}$$

おわつた、丸つけをして、赤えんぴつで直そう!!

① $2 \times 4 = 8$	⑪ $7 \times 3 = 21$
② $8 \times 6 = 48$	⑫ $8 \times 7 = 56$
③ $6 \times 9 = 54$	⑬ $4 \times 6 = 24$
④ $7 \times 6 = 42$	⑭ $9 \times 3 = 27$
⑤ $2 \times 6 = 12$	⑮ $8 \times 3 = 24$
⑥ $6 \times 8 = 48$	⑯ $7 \times 7 = 49$
⑦ $5 \times 6 = 30$	⑰ $8 \times 5 = 40$
⑧ $4 \times 7 = 28$	⑱ $9 \times 1 = 9$
⑨ $5 \times 9 = 45$	⑲ $8 \times 4 = 32$
⑩ $6 \times 7 = 42$	⑳ $9 \times 8 = 72$

おわったら、丸つけをして、赤えんぴつで直しましょう😊

かけ算 ② (17)

文しょうだい ⑤

名前

かいとう

- ① 5人のりの ボートが 3そう あります。ぜんぶで 何人 のれますか。



しき $5 \times 3 = 15$

答え 15人

- ② コップが 4こ あります。ジュースを 3dL ずつ 入れます。ジュースは ぜんぶで 何dL いらいますか。

しき $4 \times 3 = 12$

答え 12dL

- ③ 1本 4cmの リボンを、つなぎ目を かさねないで 6本 つなぎました。ぜんぶで 何cm になりますか。



しき $4 \times 6 = 24$

答え 24cm

- ④ 2人組みが 7組 できました。ぜんぶで 何人 いますか。

しき $2 \times 7 = 14$

答え 14人

- ⑤ カステラが 9本 あります。1本の カステラを 5こずつに 切ると、ぜんぶで 何こ になりますか。

しき $9 \times 5 = 45$

答え 45こ

4/28 (火)

算数「はこのかたち」3年 組 ()

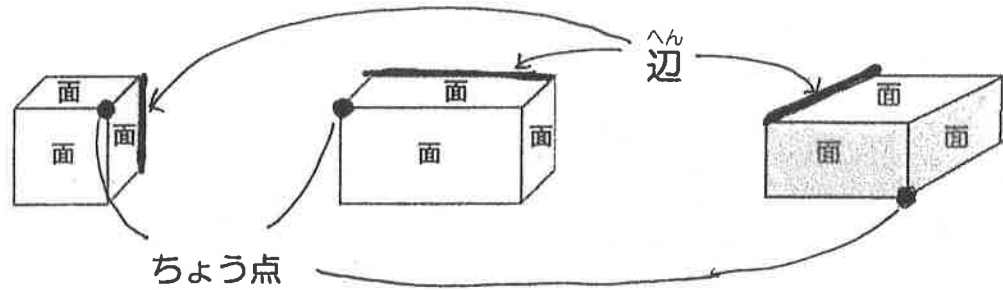
☆はこを作ろう!

①あつ紙の(あ)から(か)の形を切りとる。

②(あ)から(か)の形をセロテープではり合わせてはこの形にする。

【もんだい】

はり合わせてできるのは どのはこでしょう? 作る前に考えよう。



☆おぼえよう!

①たいらなところを^{めん}面といいます。

②面と面のさかいになっている直線のところを^{へん}辺といいます。

③3本の^{へん}辺があつまるところを^{ちょう点}ちょう点といいます。

☆しらべよう! ... 作ったはこの形をよく見て答えましょう。

①面の数は (6) ②辺の数は (12)

③ちょう点の数は (8) ④面の形はぜんぶ (長方形)

⑤同じ形の面は

((あ) と (え)) ((い) と (か)) ((う) と (お))

⑥はこを作って気づいたこと・考えたこと

しけん

せんせん

★教科書とワークの両方とも2回確認しよう。

★教科書の読み方とワークの書き方をしっかり覚えておこう。

作題

たいら

しけん

(たいらのしけん)
(かまのしけん)

た	わ	っ	て	み	よ	う	か	な	あ		う	る	う	る
お	し	て	み	よ	う	か	な	あ		ゆ	ら	ゆ	ら	
も	す	こ	し	お	そ	う	か	な	あ		ぐ	う	ぐ	ら
も	い	ち	ど	お	そ	う	か	あ		が	ら	が	ら	
た	お	れ	ち	や	っ	た	よ	な	あ		え	へ	へ	
い	ん	り	よ	く	か	ん	じ	る	ね	え		み	し	み
ち	き	や	う	は	ま	わ	っ	て	る	う		ぐ	い	ぐ
か	ぜ	も	ふ	い	て	る	よ	お		そ	よ	そ	よ	
あ	る	き	は	じ	め	る	か	あ		ひ	た	ひ	た	
た	れ	か	が	ふ	り	む	い	た	い		ど	き	ん	

