


# 4月20日からのかだい



※おわったら、自分でまるつけをしましょう。まちがえたところは、もういちど ときなおそう！

3年 組

名前 ( )



**テーマ作文 4月24日 金曜日 天気 ( )**

テーマ

ドジなものの新しいとらえかきと併せてしよう。  
りゆうま つけてせつめいしてください。

|  |  |  |  |  |  |  |  |  |  |  |  |  |  |
|--|--|--|--|--|--|--|--|--|--|--|--|--|--|
|  |  |  |  |  |  |  |  |  |  |  |  |  |  |
|  |  |  |  |  |  |  |  |  |  |  |  |  |  |
|  |  |  |  |  |  |  |  |  |  |  |  |  |  |
|  |  |  |  |  |  |  |  |  |  |  |  |  |  |
|  |  |  |  |  |  |  |  |  |  |  |  |  |  |
|  |  |  |  |  |  |  |  |  |  |  |  |  |  |
|  |  |  |  |  |  |  |  |  |  |  |  |  |  |
|  |  |  |  |  |  |  |  |  |  |  |  |  |  |
|  |  |  |  |  |  |  |  |  |  |  |  |  |  |
|  |  |  |  |  |  |  |  |  |  |  |  |  |  |
|  |  |  |  |  |  |  |  |  |  |  |  |  |  |
|  |  |  |  |  |  |  |  |  |  |  |  |  |  |
|  |  |  |  |  |  |  |  |  |  |  |  |  |  |
|  |  |  |  |  |  |  |  |  |  |  |  |  |  |
|  |  |  |  |  |  |  |  |  |  |  |  |  |  |
|  |  |  |  |  |  |  |  |  |  |  |  |  |  |
|  |  |  |  |  |  |  |  |  |  |  |  |  |  |
|  |  |  |  |  |  |  |  |  |  |  |  |  |  |
|  |  |  |  |  |  |  |  |  |  |  |  |  |  |
|  |  |  |  |  |  |  |  |  |  |  |  |  |  |

Qボールをかくしても すぐにバてしてしまうスポーツは？



こたえ

**テーマ作文 4月23日 木曜日 天気 ( )**

テーマ

さいきん、うれしかったことは何ですか？  
りゆうま つけてせつめいしてください。

|  |  |  |  |  |  |  |  |  |  |  |  |  |  |
|--|--|--|--|--|--|--|--|--|--|--|--|--|--|
|  |  |  |  |  |  |  |  |  |  |  |  |  |  |
|  |  |  |  |  |  |  |  |  |  |  |  |  |  |
|  |  |  |  |  |  |  |  |  |  |  |  |  |  |
|  |  |  |  |  |  |  |  |  |  |  |  |  |  |
|  |  |  |  |  |  |  |  |  |  |  |  |  |  |
|  |  |  |  |  |  |  |  |  |  |  |  |  |  |
|  |  |  |  |  |  |  |  |  |  |  |  |  |  |
|  |  |  |  |  |  |  |  |  |  |  |  |  |  |
|  |  |  |  |  |  |  |  |  |  |  |  |  |  |
|  |  |  |  |  |  |  |  |  |  |  |  |  |  |
|  |  |  |  |  |  |  |  |  |  |  |  |  |  |
|  |  |  |  |  |  |  |  |  |  |  |  |  |  |
|  |  |  |  |  |  |  |  |  |  |  |  |  |  |
|  |  |  |  |  |  |  |  |  |  |  |  |  |  |
|  |  |  |  |  |  |  |  |  |  |  |  |  |  |
|  |  |  |  |  |  |  |  |  |  |  |  |  |  |
|  |  |  |  |  |  |  |  |  |  |  |  |  |  |
|  |  |  |  |  |  |  |  |  |  |  |  |  |  |
|  |  |  |  |  |  |  |  |  |  |  |  |  |  |
|  |  |  |  |  |  |  |  |  |  |  |  |  |  |

Q一回たたくと こわれてしまう楽きは？



こたえ

テーマ作文 4月21日 火曜日 天気 ( )

テーマ

まほうを一回だけつかえるとしたら、何をしますか？

Grid for writing the theme essay.

Vertical box for additional notes.

Qエビの下にいて音楽をながしているのはなんだ？



なぜなぜコーナー



こたえ

Answer box for the 'Why Why Corner' question.

テーマ作文 4月22日 水曜日 天気 ( )

テーマ

パンやうどん、そばなどは美味しいけど、パンやうどん、そばは、どうして美味しいのか？

Grid for writing the theme essay.

Vertical box for additional notes.

Qスイカとバナナとりんごをつんだトラックがカーブをまがるときにおとしたものは？

なぜなぜコーナー



こたえ

Answer box for the 'Why Why Corner' question.

テーマ作文 5月1日 金曜日 天気 )

テーマ

自分のいじわるを むじむいじめよう思ひつけよう。  
りゆうま しけてせしめいこつんたをこ。

|  |  |  |  |  |  |  |  |  |  |  |  |  |  |  |  |  |  |  |  |  |  |  |
|--|--|--|--|--|--|--|--|--|--|--|--|--|--|--|--|--|--|--|--|--|--|--|
|  |  |  |  |  |  |  |  |  |  |  |  |  |  |  |  |  |  |  |  |  |  |  |
|  |  |  |  |  |  |  |  |  |  |  |  |  |  |  |  |  |  |  |  |  |  |  |
|  |  |  |  |  |  |  |  |  |  |  |  |  |  |  |  |  |  |  |  |  |  |  |
|  |  |  |  |  |  |  |  |  |  |  |  |  |  |  |  |  |  |  |  |  |  |  |
|  |  |  |  |  |  |  |  |  |  |  |  |  |  |  |  |  |  |  |  |  |  |  |
|  |  |  |  |  |  |  |  |  |  |  |  |  |  |  |  |  |  |  |  |  |  |  |
|  |  |  |  |  |  |  |  |  |  |  |  |  |  |  |  |  |  |  |  |  |  |  |
|  |  |  |  |  |  |  |  |  |  |  |  |  |  |  |  |  |  |  |  |  |  |  |
|  |  |  |  |  |  |  |  |  |  |  |  |  |  |  |  |  |  |  |  |  |  |  |
|  |  |  |  |  |  |  |  |  |  |  |  |  |  |  |  |  |  |  |  |  |  |  |
|  |  |  |  |  |  |  |  |  |  |  |  |  |  |  |  |  |  |  |  |  |  |  |

テーマ作文 4月30日 木曜日 天気 )

テーマ

大人と子どもでは どちらになりたいですか?  
りゆうま しけてせしめいこつんたをこ。

|  |  |  |  |  |  |  |  |  |  |  |  |  |  |  |  |  |  |  |  |  |  |  |
|--|--|--|--|--|--|--|--|--|--|--|--|--|--|--|--|--|--|--|--|--|--|--|
|  |  |  |  |  |  |  |  |  |  |  |  |  |  |  |  |  |  |  |  |  |  |  |
|  |  |  |  |  |  |  |  |  |  |  |  |  |  |  |  |  |  |  |  |  |  |  |
|  |  |  |  |  |  |  |  |  |  |  |  |  |  |  |  |  |  |  |  |  |  |  |
|  |  |  |  |  |  |  |  |  |  |  |  |  |  |  |  |  |  |  |  |  |  |  |
|  |  |  |  |  |  |  |  |  |  |  |  |  |  |  |  |  |  |  |  |  |  |  |
|  |  |  |  |  |  |  |  |  |  |  |  |  |  |  |  |  |  |  |  |  |  |  |
|  |  |  |  |  |  |  |  |  |  |  |  |  |  |  |  |  |  |  |  |  |  |  |
|  |  |  |  |  |  |  |  |  |  |  |  |  |  |  |  |  |  |  |  |  |  |  |
|  |  |  |  |  |  |  |  |  |  |  |  |  |  |  |  |  |  |  |  |  |  |  |
|  |  |  |  |  |  |  |  |  |  |  |  |  |  |  |  |  |  |  |  |  |  |  |
|  |  |  |  |  |  |  |  |  |  |  |  |  |  |  |  |  |  |  |  |  |  |  |
|  |  |  |  |  |  |  |  |  |  |  |  |  |  |  |  |  |  |  |  |  |  |  |
|  |  |  |  |  |  |  |  |  |  |  |  |  |  |  |  |  |  |  |  |  |  |  |

なぜなぜ  
コーナー



こたえ

Q東のまん中にある虫はななに?

なぜなぜ  
コーナー



こたえ

Qだいどころにいる とべないチョウは何だ?

テーマ作文 4月27日月曜日 天気 )

テーマ

生まれてから今までに何回か行ったところ、何回か行ったところ、何回か行ったところ、何回か行ったところ、何回か行ったところ。

Grid for writing the composition.

Vertical box for additional notes.



なぜなぜコーナー

Q毎日学校にもって行くのに 帰るまでつかわないものは？

Answer box for the 'Why' corner.

こたえ

テーマ作文 4月28日火曜日 天気 )

テーマ

お休み中、どんなことをしてすごしていきまかな...

Grid for writing the composition.

Vertical box for additional notes.



なぜなぜコーナー

Q海がんで 行ったり来たりしているのは？

Answer box for the 'Why' corner.

こたえ



7/20 (月)


やさい

# 野菜のたねをかんさつしよう

3年組 ( )

\_\_\_\_\_

のたね



色

大きさ

形

**！考えよう**

アサガオなどをそだてたけいけんからどんなおせわがひつようか 考えましょう。

# たねをまこう

○たねのかんさつがおわったら、牛乳パックプランターを作ってたねをまき、そだてましょう。


\*牛乳パックプランターの作り方

【じゅんびするもの】

- ・1リットル牛乳パック1つ
- ・はさみ
- ・土
- ・トレイ (水うけのさら)

【作り方】

- ①牛乳パックのそそぎ口から10cmまで、4つの角に切り込みを入れる。
- ②切ったところを内がわにおりまげる。
- ③牛乳パックの下のところの4面にあなをあける。
- ④土を口のところまで入れ、まん中にゆびであなをあけて、たねをまく。
- ⑤水をたっぷりあげましょう。

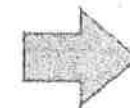


※たねをまいたら、毎日かんさつしましょう。(うらへつづく)

たねまきの日

めが出た日

月 日



月 日

Empty rectangular box for a name or title.

# をかんさつしよう

※へんかがあればかんさつ記ろくを書きましょう。

月 日 ( ) 気づいたこと  
めようす

.....  
.....  
.....  
.....  
.....

月 日 ( ) 気づいたこと

.....  
.....  
.....  
.....  
.....

月 日 ( ) 気づいたこと

.....  
.....  
.....  
.....  
.....

月 日 ( ) 気づいたこと

.....  
.....  
.....  
.....  
.....



二年生でならったかん字

なまえ

組

番

二年生でならったかん字をかいてみよう。

あね のぼうしを あたま にのせる。

来 は れるでしょう。

じゆん ばん に はな す。

くび かざりをつけて ある く。

母の ろを はし る。

いえ で日 をかく。

の はら で いもうと とあそぶ。

よる に星を かぞ える。

火 よう 日の昼にカレーを た べた。

丸い かたち のりんごを はん ぶん に切る。

ち 図によると、 いけ の みなみ だ。



がっ きに わせて うた う。

さく 文に おや のことを か く。

とお くまで音が き こえる。

あたら しい きょうしつ 。

せん ろぞいに き 色い花がさく。

ちがう みち を とお っ て かえ る。



ふね で し っている人に会う。

画 よう し に自 ぶん の かお をかく。

こえ に出して よ む。

かぜ の強い ば しょ。

おわったら答えを見直そう。



# 三年生で習う漢字

●三年生で習う漢字200字の表です。  
 ●主な読みを取り上げています。  
 ●( )は、小学校では習わない読みです。  
 ●おぼえた漢字にはしるしをつけておきましょう。

漢字の色は  
 1 ひじゆんです。  
 2 2  
 3 3  
 4 4  
 5 5  
 のじゆんに書きます。

| ら~ろ    | ま~も   | かなしい    | ひ      | ゆ      | とう    | だん    | (せき)    | しよ     | もつ    | じ      | きゆう   | か~こ   | あ~お    |
|--------|-------|---------|--------|--------|-------|-------|---------|--------|-------|--------|-------|-------|--------|
| おとす 落  | あじ 味  | うつくしい 美 | のぼる 鼻  | ひどしい 動 | とどく 登 | あやく 着 | すべて 全   | あつい 暑  | みる 持  | わかう 式  | きよ 去  | ばける 化 | わるい 悪  |
| ながれる 流 | いのち 命 | はな 鼻    | うつく 筆  | はしち 動  | そそぐ 等 | あい 注  | おくる 相   | たすける 助 | みる 実  | さいわい 幸 | きよう 橋 | に 荷   | やすい 安  |
| たび 旅   | めん 面  | ひつ 筆    | うつく 氷  | うつく 童  | はしち 動 | おくる 柱 | おくる 送   | しよう 昭  | うつつ 写 | みなと 港  | ぎよう 業 | かい 界  | くら い 暗 |
| りよう 両  | もん 問  | ひよう 氷   | ひよう 表  | な~の    | ちよう 帳 | ちよう 想 | ちよう 息   | しよう 消  | しや 者  | ごう 号   | きよく 曲 | かい 開  | い 医    |
| みどり 緑  | や~よ 役 | ひよう 秒   | な~の 農  | は~ほ    | ちよう 調 | ちよう 追 | そく 速    | しよう 商  | しゅ 主  | こん 根   | ぎよく 局 | かい 階  | い 委    |
| れい 礼   | やく 薬  | びよう 病   | は~ほ 波  | おつ 追   | ちよう 定 | そく 族  | そく 勝    | しよう 章  | しゅ 守  | さ~そ 祭  | ぎん 銀  | かん 寒  | い 意    |
| れつ 列   | やく 薬  | びよう 病   | は~ほ 波  | おつ 追   | ちよう 定 | そく 族  | そく 勝    | しよう 章  | しゅ 守  | さ~そ 祭  | ぎん 銀  | かん 寒  | い 意    |
| ねる 練   | ゆう 由  | ひん 品    | なみ 波   | さだめる 定 | じてい 庭 | た~と 他 | のる 乘    | じよう 乘  | さけ 酒  | さい 皿   | く 苦   | かん 漢  | いん 員   |
| じ 路    | ゆ 油   | ふ 負     | くばる 配  | にわ 庭   | てい 笛  | た 打   | うえる 植   | しよく 植  | しゆ 受  | し 仕    | ぐ 具   | かん 館  | いん 院   |
| わ 和    | ゆう 有  | ぶ 部     | はい 倍   | にわ 庭   | てき 鉄  | だ 打   | うける 申   | (しん) 申 | しゆう 州 | し 死    | くん 君  | かん 岸  | いん 飲   |
|        | ゆう 遊  | ふく 服    | はい 箱   | にわ 庭   | てき 鉄  | たい 対  | ひろう 身   | しん 身   | しゆう 拾 | し 使    | けい 係  | かん 起  | いん 運   |
|        | よ 予   | ふく 福    | は 焔    | ころぶ 都  | てん 転  | たい 待  | おわる 神   | しん 神   | しゆう 終 | し 始    | けい 輕  | き 期   | えい 泳   |
|        | よう 羊  | ぶつ 物    | はつ 発   | みやこ 度  | つと 都  | たい 代  | なま 真    | しん 真   | しゆう 習 | し 指    | けつ 血  | きやく 客 | えき 駅   |
|        | よう 洋  | へい 平    | はん 反   | と 度    | つと 度  | だい 第  | あつまる 深  | しん 深   | しゆう 集 | し 齒    | けつ 決  | きゆう 究 | おう 央   |
|        | よう 葉  | へん 返    | (はん) 坂 | と 投    | なげる 投 | だい 題  | すむ 進    | しん 進   | じゆう 住 | し 詩    | けん 研  | きゆう 急 | おう 横   |
|        | よう 陽  | べん 勉    | ばん 板   | ずとう 豆  | まめ 豆  | たん 炭  | かざる 世   | せい 世   | じゆう 重 | じ 次    | けん 卓  | きゆう 級 | おく 屋   |
| さま 様   | ほう 放  | か 皮     | か 皮    | とう 島   | しま 島  | たん 短  | おもしろい 整 | せい 整   | しゆく 宿 | じ 事    | けん 庫  | きゆう 宮 | おん 温   |

# 算数

じゅんぶ

## 3年へのステップ

なまえ

組 番

点

7  にあてはまる数を書きましょう。

各5点(10)

① 2 cm 5 mm =  mm

② 1 m =  cm

8 長いほうに○を書きましょう。

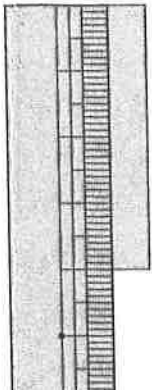
各5点(10)

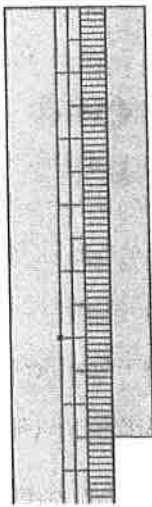
① ( ) )  4 cm  3 cm 8 mm ( ) )

② ( ) )  117 cm  1 m 20 cm ( ) )

9 つぎの長さはどれだけですか。

各5点(15)


①  ( ) )

②  ( ) )

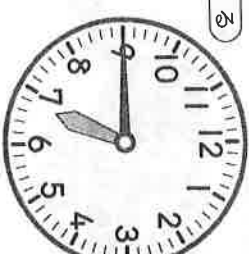
③ 1 m のものさし 3 つぶん…… ( ) )

10 時計の時こくを、午前か午後をつけて書きましょう。

各5点(15)

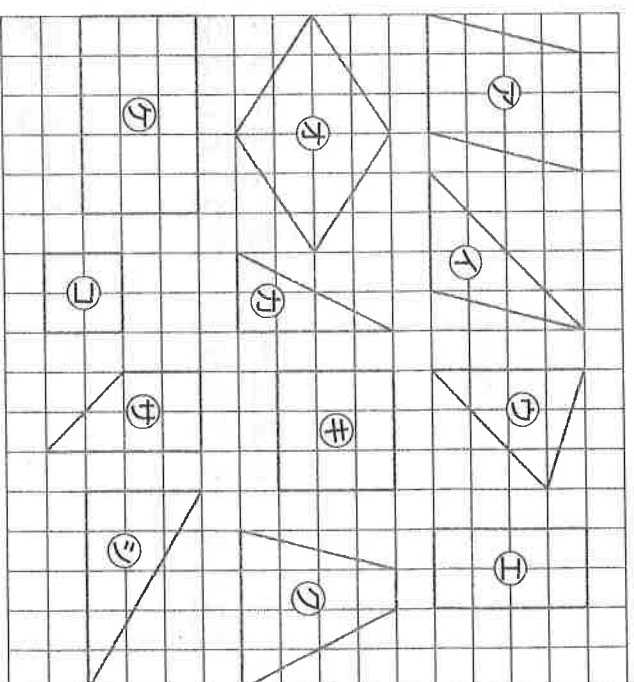
①   ( ) )

②   ( ) )

③   ( ) )

11 下の図から長方形、正方形、直角三角形を見つけて、アからシで答えましょう。

各5点(30)



① 長方形…… ( ) と ( ) )

② 正方形…… ( ) と ( ) )

③ 直角三角形…… ( ) と ( ) )

12 くだもの数をグラフにあらわしました。

各5点(20)

くだもの数

|  |     |     |     |     |     |
|--|-----|-----|-----|-----|-----|
|  |     |     |     |     |     |
|  | ○   |     |     |     |     |
|  | ○   | ○   |     | ○   |     |
|  | ○   | ○   |     | ○   |     |
|  | ○   | ○   | ○   | ○   |     |
|  | ○   | ○   | ○   | ○   | ○   |
|  | ○   | ○   | ○   | ○   | ○   |
|  | いちご | バナナ | みかん | りんご | メロン |

① つぎのくだもの数は何こですか。

▶ いちご ( ) )

▶ みかん ( ) )

② 数がいちばん多いくだものは何ですか。

( ) )

③ りんごは、メロンより何こ多いですか。

( ) )

# 算数

## 3年へのステップ

3年 国

じゅんび

4/21(火) (うらたけ)

組 番  
なまえ

点

1 にあてはまる数を書きましょう。

①は完全正答 各5点(15)

① 82は、10を  ごと、1を  こあわせた数。

② 10を43こあつめた数は 。

③ 5700は、100を  こあつめた数。

2 たし算をしましょう。

各5点(20)

① 
$$\begin{array}{r} 52 \\ +17 \\ \hline \end{array}$$

② 
$$\begin{array}{r} 39 \\ +48 \\ \hline \end{array}$$

③ 
$$\begin{array}{r} 75 \\ +65 \\ \hline \end{array}$$

④ 
$$\begin{array}{r} 47 \\ +54 \\ \hline \end{array}$$

3 ひき算をしましょう。

各5点(20)

① 
$$\begin{array}{r} 85 \\ -23 \\ \hline \end{array}$$

② 
$$\begin{array}{r} 91 \\ -37 \\ \hline \end{array}$$

③ 
$$\begin{array}{r} 142 \\ -65 \\ \hline \end{array}$$

④ 
$$\begin{array}{r} 103 \\ -79 \\ \hline \end{array}$$

4 かけ算をしましょう。

各5点(20)

①  $5 \times 3$

②  $7 \times 9$

③  $2 \times 8$

④  $6 \times 4$

5 にあてはまる数を書きましょう。

各5点(15)


① 3の단では、かける数が1ふえると、  
答えは  ふえます。

②  $4 \times 2 = \square \times 4$

③  $6 \times 7 = 7 \times \square$

6 色をぬったところの大きさは、それぞれ  
もとの大きさの何分の一ですか。

各5点(10)



$$\begin{array}{r} ① \quad 26 \\ + 43 \\ \hline \end{array}$$

$$\begin{array}{r} ⑥ \quad 55 \\ + 84 \\ \hline \end{array}$$

$$\begin{array}{r} ② \quad 35 \\ + 20 \\ \hline \end{array}$$

$$\begin{array}{r} ⑦ \quad 76 \\ + 32 \\ \hline \end{array}$$

$$\begin{array}{r} ③ \quad 47 \\ + 39 \\ \hline \end{array}$$

$$\begin{array}{r} ⑧ \quad 42 \\ + 99 \\ \hline \end{array}$$

$$\begin{array}{r} ④ \quad 66 \\ + 3 \\ \hline \end{array}$$

$$\begin{array}{r} ⑨ \quad 314 \\ + 63 \\ \hline \end{array}$$

$$\begin{array}{r} ⑤ \quad 78 \\ + 2 \\ \hline \end{array}$$

$$\begin{array}{r} ⑩ \quad 7 \\ + 483 \\ \hline \end{array}$$

$$\begin{array}{r} ⑪ \quad 47 \\ - 15 \\ \hline \end{array}$$

$$\begin{array}{r} ⑯ \quad 90 \\ - 15 \\ \hline \end{array}$$

$$\begin{array}{r} ⑫ \quad 54 \\ - 33 \\ \hline \end{array}$$

$$\begin{array}{r} ⑰ \quad 158 \\ - 49 \\ \hline \end{array}$$

$$\begin{array}{r} ⑬ \quad 78 \\ - 8 \\ \hline \end{array}$$

$$\begin{array}{r} ⑱ \quad 101 \\ - 72 \\ \hline \end{array}$$

$$\begin{array}{r} ⑭ \quad 35 \\ - 20 \\ \hline \end{array}$$

$$\begin{array}{r} ⑲ \quad 544 \\ - 23 \\ \hline \end{array}$$

$$\begin{array}{r} ⑮ \quad 84 \\ - 76 \\ \hline \end{array}$$

$$\begin{array}{r} ⑳ \quad 817 \\ - 8 \\ \hline \end{array}$$

おわったら、丸つけをして、赤えんぴつで直そう!!

4/28 (X)

算数「はこのかたち」3年 組 ( )

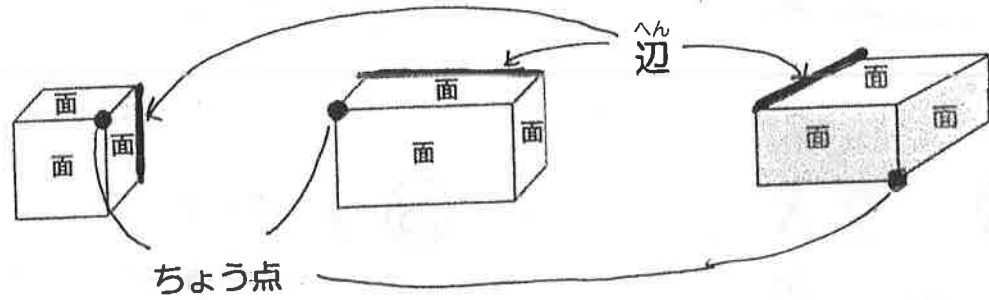
☆はこを作ろう！

①あつ紙の㊦から㊧の形を切りとる。

②㊦から㊧の形をセロテープではり合わせてはこの形にする。

【もんだい】

はり合わせてできるのは どのはこでしょう？作る前に考えよう。



☆おぼえよう！

①たいらなところを<sup>めん</sup>面といいます。

②面と面のさかいになっている直線のところを<sup>へん</sup>辺といいます。

③3本の<sup>へん</sup>辺があつまったところを<sup>ちょう点</sup>ちょう点といいます。

☆しらべよう！・・・作ったはこの形をよく見て答えましょう。

①面の数は ( ) ②辺の数は ( )

③ちょう点の数は ( ) ④面の形はぜんぶ ( )

⑤同じ形の面は

( ㊦ と ) ( と ) ( と )

⑥はこを作って気づいたこと・考えたこと

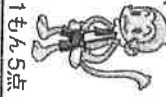
---



---

たしかめ  
5分!

二年生のふしゅう



1枚/5点

点

光3・1

1年生はさんたんと習字も。習字にしている人は

の読みがなを書きまじろう



① 大きな船にのる。

② 半分に切る。

③ 鳥の鳴き声。

④ 雨が強まる。

⑤ 学校のある方角。

⑥ ふしぎに思う。

⑦ 黄色い花。

⑧ 画用紙に絵をかく。

⑨ すきな教科。

⑩ 夏のたいよう。

にかな字を書きまじろう



にはありがなを書きまじろう。

⑪ とあそぶ。

⑫ 休みの時間。

⑬ 店の前を

⑭ 空が

⑮ にのる。

⑯ 思いきり

⑰ 広い

⑱ 夜が

⑳ そうじ

①  $2 \times 4$

⑪  $7 \times 3$

②  $8 \times 6$

⑫  $8 \times 7$

③  $6 \times 9$

⑬  $4 \times 6$

④  $7 \times 6$

⑭  $9 \times 3$

⑤  $2 \times 6$

⑮  $8 \times 3$

⑥  $6 \times 8$

⑯  $7 \times 7$

⑦  $5 \times 6$

⑰  $8 \times 5$

⑧  $4 \times 7$

⑱  $9 \times 1$

⑨  $5 \times 9$

⑲  $8 \times 4$

⑩  $6 \times 7$

⑳  $9 \times 8$

### かけ算 ② (17)

名前 \_\_\_\_\_

### 文しょうだい ⑤

① 5人のりの ボートが 3そう あります。  
ぜんぶで 何人 のれますか。



しき \_\_\_\_\_

答え \_\_\_\_\_

② コップが 4こ あります。ジュースを 3dL ずつ 入れます。  
ジュースは ぜんぶで 何dL いらいますか。

しき \_\_\_\_\_

答え \_\_\_\_\_

③ 1本 4cmの リボンを、つなぎ目を かさねないで 6本  
つなぎました。ぜんぶで 何cmに なりますか。



しき \_\_\_\_\_

答え \_\_\_\_\_

④ 2人組みが 7組 できました。  
ぜんぶで 何人 いますか。

しき \_\_\_\_\_

答え \_\_\_\_\_

⑤ カステラが 9本 あります。1本の カステラを 5こずつに  
切ると、ぜんぶで 何こに なりますか。

しき \_\_\_\_\_

答え \_\_\_\_\_

おわったら、丸つけをして、赤えんぴつで

直しましょう😊



じまむ

★教かしよの12ページと13ページを2回音読しよう！

★教かしよをよく見て、詩しのけしきをうかべながら、ていねいな字で詩しをかこう。

作者

（ ）

（ ）

だい名

Empty rectangular box for the author's name.

Large grid for handwriting practice, consisting of 11 columns and 15 rows, with some cells missing at the bottom.

Vertical rectangular box with the text 'だい名' written vertically inside.


# 5/1 計算ピラミッド

(全)

となりどうしの  
数を たします。  
答えは、上の ますに  
書きます。

ここは いくつに  
なるのかな。









7+8で  
15を書く。







ここは  
8+9で...



1 ますに あてはまる 数を書きましょう。





2 いちばん 下の 4つの ますに 同じ 数を入れます。  
いちばん 上の 数は、いくつに なりますか。



|              |                      |                      |                      |                      |
|--------------|----------------------|----------------------|----------------------|----------------------|
|              | ①                    | ②                    | ③                    | ④                    |
| いちばん<br>下の 数 | 1                    | 2                    | 3                    | 4                    |
|              | ↓                    | ↓                    | ↓                    | ↓                    |
| いちばん<br>上の 数 | <input type="text"/> | <input type="text"/> | <input type="text"/> | <input type="text"/> |

何か 気づいた  
ことは ないかな。  
きまりを  
見つけよう。

3 上で 見つけた きまりが 正しいか、  
ほかの 数で たしかめて みましょう。



すきな 数を  
書いて  
たしかめよう。