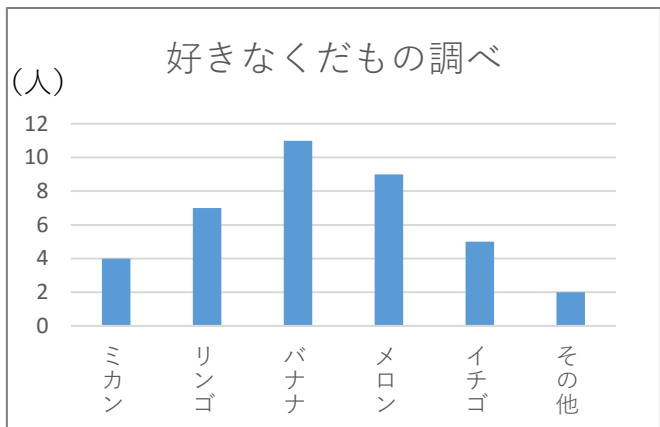


<h1>表とグラフ①</h1>	名前 _____
-----------------	-------------

【1】 下のグラフを、人数の多いじゅんにならべかえ
ましょう




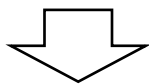
定規を使って
書こう！



【2】 下の表をぼうグラフに表しましょう。

● 好きな動物調べ

動物	人数 (人)
パンダ	10
ペンギン	8
キリン	7
ゾウ	5
ライオン	3
その他	2
合計	35




【3】 (1) 下の表の合計 (①～⑩) を、書きましょう。

● 好きなくだもの調べ (4年生)

しゅるい	1組	2組	3組	合計
ミカン	4	4	5	①
リンゴ	6	7	6	②
バナナ	9	11	10	③
メロン	10	9	8	④
イチゴ	7	5	7	⑤
その他	3	2	2	⑥
合計	⑦	⑧	⑨	⑩

(2) 1組と2組の表を、多いじゅんにぼうグラフに
表しましょう。(表題も書きましょう。)



好きな動物の絵をかこう！

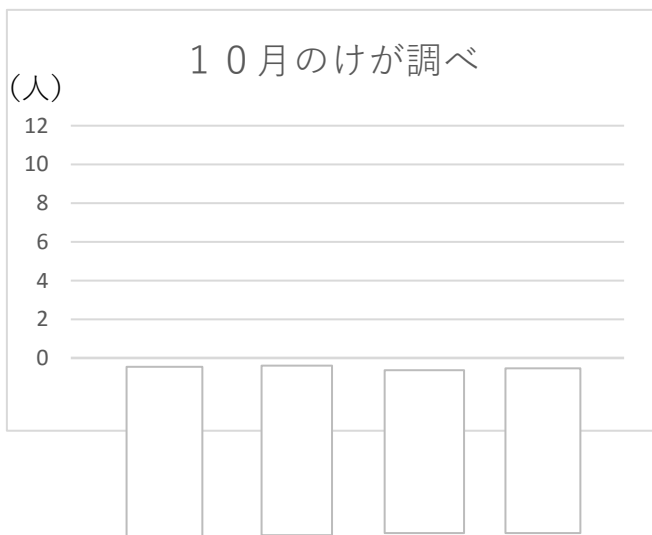
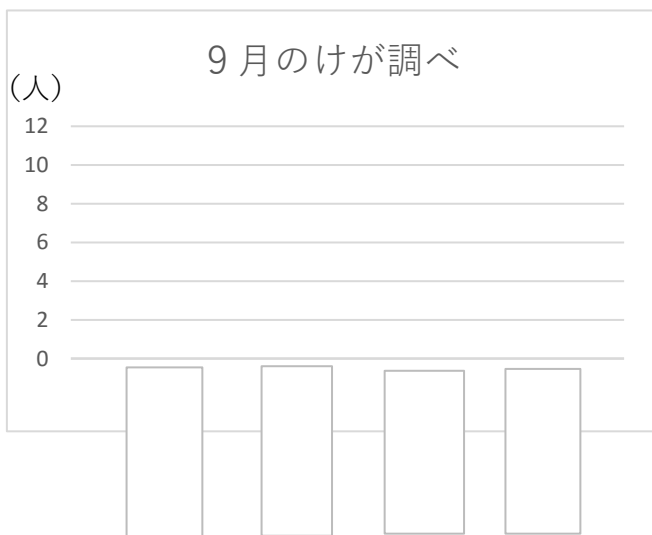
<h2 style="margin: 0;">表とグラフ②</h2>	名前 前
------------------------------------	---------

【1】 下の表は9月、10月11月にけがをした4年生の人数を、しゅるいごとにまとめたものです。

① ㉗～㉛に人数を書きましょう。

	9月	10月	11月	合計
すりきず	7	9	12	㉗
切りきず	3	5	㉘	12
打ぼく	㉙	10	6	21
その他	6	㉚	7	21
その他	21	32	29	㉛

② 9月、10月の「けがをした人数」を、多い順にぼうグラフに表しましょう。
(その他が一番最後にします。)



今日の一言～休校中の小さなつぶやきを何でも書こう。～

【2】 下の表は、4月、5月、6月に図書室で4年生にかし出した本のしゅるいと数を調べたものです。

● かし出した本の数(さつ)

(4月)		(5月)		(6月)	
しゅるい	数	しゅるい	数	しゅるい	数
物語	15	物語	21	物語	16
伝記	6	伝記	19	伝記	14
図かん	8	図かん	24	図かん	9
その他	5	その他	8	その他	9
合計		合計		合計	

- ① それぞれの月のかし出した本の合計さつ数を表に書きましょう。
- ② 4月、5月、6月のかし出したさつ数で、一番多い本のしゅるいは、それぞれ何ですか。表に○をつけましょう。
- ③ それぞれの月ごとに表した3つの表を、1つの表に整理しましょう。

月(さつ) しゅるい	4月	5月	6月	合計
物語				
伝記				
図かん				
その他				
合計				

【3】 自分の筆箱の中身を表とグラフで表そう。

● 筆箱の中身調べ

しゅるい	数
えんぴつ	
赤えんぴつ	
消しゴム	
じょうぎ	
その他	
合計	

自分でグラフに表してみよう！