

3年生 休校中の算数の宿題

8-1 計算をしましょう。

① $2 \times 2 =$

② $3 \times 6 =$

③ $5 \times 4 =$

④ $7 \times 4 =$

⑤ $2 \times 8 =$

⑥ $9 \times 4 =$

⑦ $7 \times 6 =$

⑧ $4 \times 5 =$

⑨ $2 \times 4 =$

⑩ $1 \times 2 =$

8 4月28日にやりましょう。

名前 ()

⑪ $8 \times 7 =$

⑫ $6 \times 3 =$

⑬ $3 \times 3 =$

⑭ $1 \times 6 =$

⑮ $7 \times 2 =$

⑯ $5 \times 5 =$

⑰ $4 \times 6 =$

⑱ $2 \times 3 =$

⑲ $8 \times 8 =$

⑳ $6 \times 1 =$

8-2 たし算の筆算

名前 ()

① $477 + 3$

⑤ $367 + 25$

② $455 + 38$

⑥ $648 + 6$

③ $589 + 3$

⑦ $619 + 55$


④ $342 + 19$

⑧ $564 + 17$


8-3 ひき算の筆算

名前 ()


① $135 - 47$



⑤ $146 - 58$




② $145 - 89$



⑥ $131 - 59$




③ $150 - 53$



⑦ $150 - 64$



④ $115 - 68$



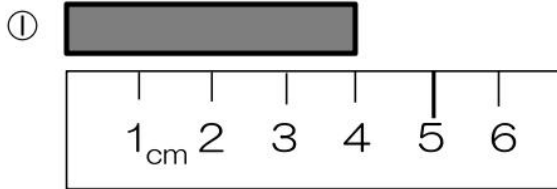
⑧ $110 - 75$

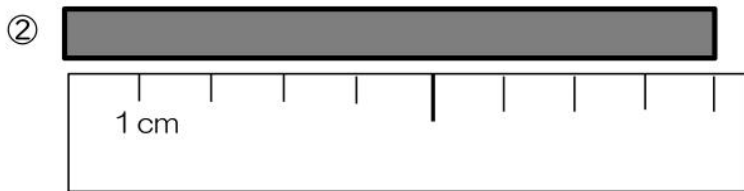


2年生の学習「長さをはかろう」にチャレンジ!

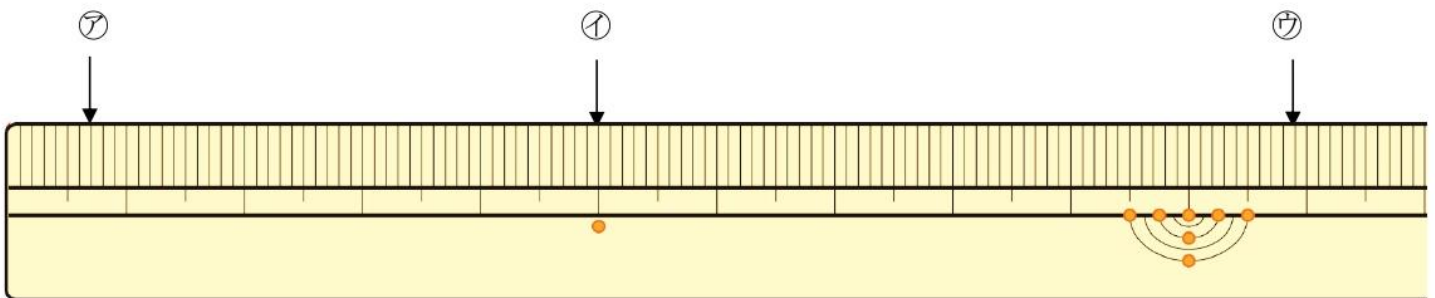
あれっ?と思ったら、2年生の算数の教科書(上 P34~46)を見てね。
 ☆きのうのように、教科書の間だいをといてから、
 下の間だいにとり組むのもいいですね。

第1問 つぎの、①~②のテープの長さは何cmですか。





第2問 ものさしの左はしから、㉞、㉟、㊱までの長さを書きましょう。



㉞

㉟

㊱

☆チャレンジ!

右と左で同じ長さを表すものを線でおすんでみよう。

3 cm 6 mm

1 cm

10 mm

74 mm

7 cm 4 mm

36 mm