


3年生 休校中の算数の宿題

10-1 たし算の筆算


① $346+46$



② $582+9$



③ $266+24$




④ $647+7$




10 5月1日にやりましょう。

名前 ()

⑤ $875+8$



⑥ $458+28$



⑦ $577+18$



⑧ $968+4$



10-2 ひき算の筆算

名前 ()

① $100 - 66$

⑤ $105 - 58$

② $103 - 59$

⑥ $101 - 18$

③ $102 - 57$

⑦ $101 - 73$

④ $103 - 36$

⑧ $106 - 78$

10-4

名前 ()

- ① チューリップ畑に行きました。赤いチューリップが48本、黄色いチューリップが24本さいていました。赤と黄色のチューリップは合わせて何本ですか。



筆算

式

答え

- ② たこ焼きパーティーをしました。たこ焼きを100こ作りしました。78こ食べました。のこっているたこ焼きはあと何こですか。



筆算

式

答え

- ③ スーパーに買い物に行きました。39円のなっとうと95円のヨーグルトを買いました。だいはいくらですか。



筆算

式

答え