


3年生 休校中の算数の宿題

9-1 たし算の筆算


① $226+48$




② $733+57$



③ $559+37$




④ $434+26$




9 4月30日にやりましょう。

名前 ()

⑤ $456+19$




⑥ $344+37$



⑦ $662+18$



⑧ $317+76$



9-2 ひき算の筆算

名前 ()

① $141 - 42$

⑤ $172 - 83$

② $160 - 77$

⑥ $184 - 89$

③ $128 - 79$

⑦ $165 - 77$

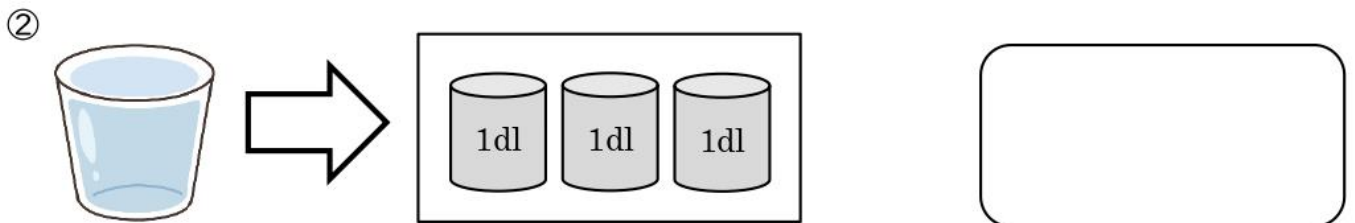
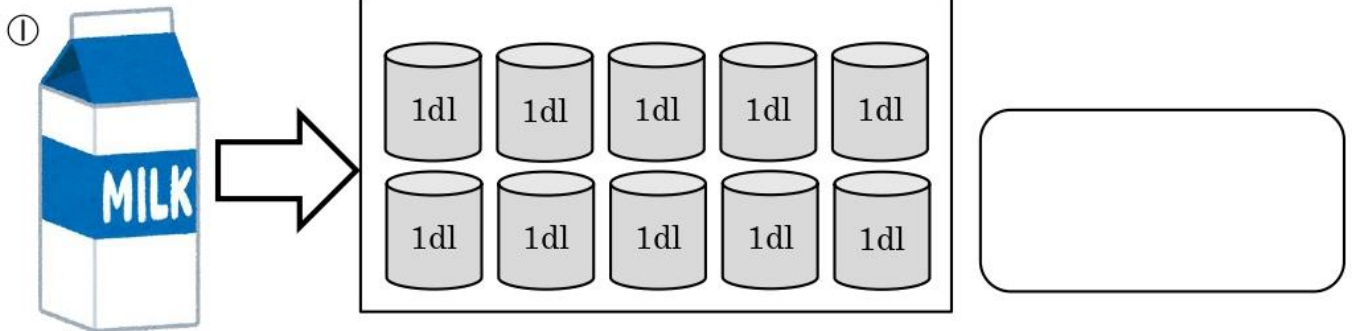
④ $182 - 99$

⑧ $137 - 89$

2年生の学習「水のかさ」にチャレンジ!

あれっ?と思ったら、2年生の算数の教科書上 P64~P72 を見てね。
 ☆きのうのように、教科書の問だいをといてから
 下の問だいにとり組むのも、いいですね。

第1問 ①、②の 入れ物には、何 dL 入るでしょうか。



第2問 つぎの に入る数字を書きましょう。

㉗ $10 \text{ dL} =$ L

㉘ $2 \text{ L} =$ dL

㉙ $18 \text{ dL} =$ L dL

㉚ $3 \text{ L } 4 \text{ dL} =$ dL

㉛ $1 \text{ L} =$ mL