

3年生 休校中の算数の宿題

8-1 計算をしましょう。

①  $2 \times 2 = 4$

②  $3 \times 6 = 18$

③  $5 \times 4 = 20$

④  $7 \times 4 = 28$

⑤  $2 \times 8 = 16$

⑥  $9 \times 4 = 36$

⑦  $7 \times 6 = 42$

⑧  $4 \times 5 = 20$

⑨  $2 \times 4 = 8$

⑩  $1 \times 2 = 2$

8 4月28日にやりましょう。

名前 ( )

⑪  $8 \times 7 = 56$

⑫  $6 \times 3 = 18$

⑬  $3 \times 3 = 9$

⑭  $1 \times 6 = 6$

⑮  $7 \times 2 = 14$

⑯  $5 \times 5 = 25$

⑰  $4 \times 6 = 24$

⑱  $2 \times 3 = 6$


⑲  $8 \times 8 = 64$

⑳  $6 \times 1 = 6$


8-2 たし算の筆算

名前 ( )


$477 + 3 = 480$



$367 + 25 = 392$




$455 + 38 = 493$



$648 + 6 = 654$




$589 + 3 = 592$



$619 + 55 = 674$



$342 + 19 = 361$




$564 + 17 = 581$




8-3 ひき算の筆算

名前 ( )


①  $135 - 47 = 88$



⑤  $146 - 58 = 88$



②  $145 - 89 = 56$



⑥  $131 - 59 = 72$



③  $150 - 53 = 97$




⑦  $150 - 64 = 86$



④  $115 - 68 = 47$



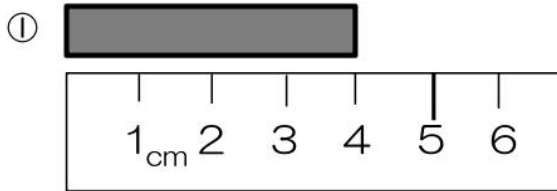
⑧  $110 - 75 = 35$



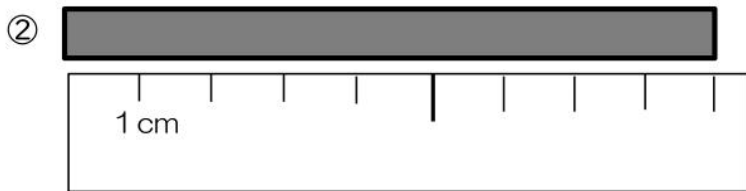
2年生の学習「長さをはかろう」にチャレンジ!

あれっ?と思ったら、2年生の算数の教科書(上 P34~46)を見てね。  
 ☆きのうのように、教科書の間だいをといてから、  
 下の間だいにとり組むのもいいですね。

第1問 つぎの、①~②のテープの長さは何cmですか。

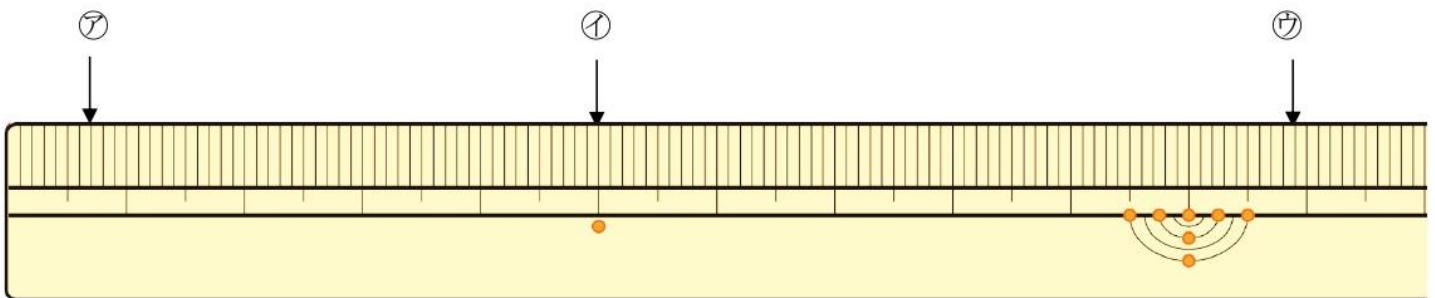


4 cm



9 cm

第2問 ものさしの左はしから、㉞、㉟、㊱までの長さを書きましょう。



㉞ 7 mm

㉟ 5 cm  
(50 mm)

㊱ 10 cm 9 mm  
(109 mm)

☆チャレンジ!  
 右と左で同じ長さを表すものを線でむすんでみよう。

